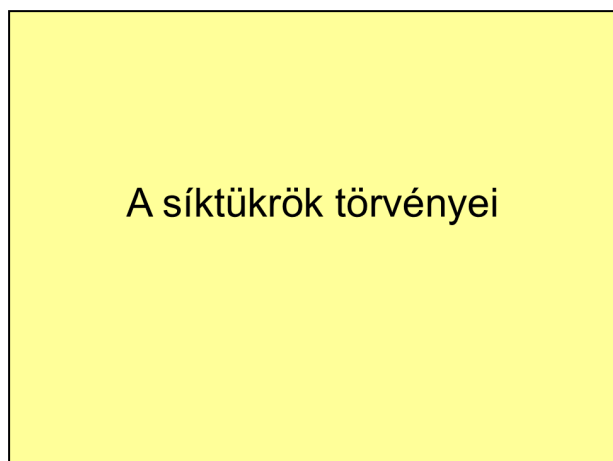


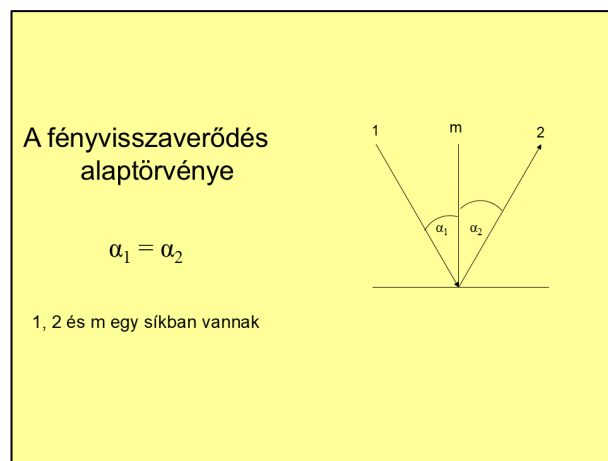
SÍKTÜKRÖK

Készítsen a mellékelt mintának megfelelően, 3 diából álló prezentációt a síktükrök fényvisszaverődésének alaptörvényei témakörében! A diákon lévő rajzokat a prezentációkészítő program rajzolóeszközeivel készítse el! Munkáját **siktukor.ppt** néven mentse!

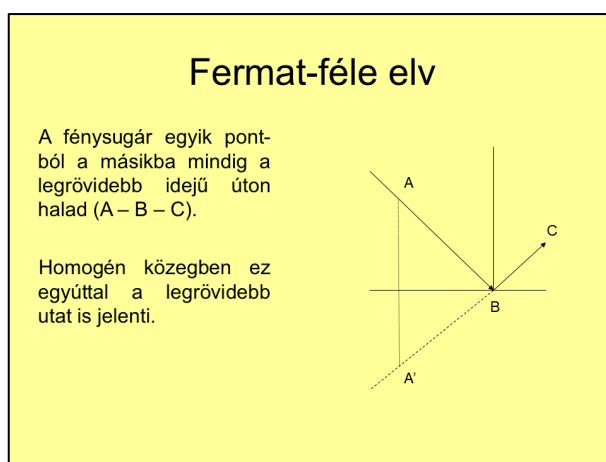
1. A diák háttere világossárga legyen! Az első dián a témakör címe 48 pontos betűmérettel, ARIAL betűtípussal, vastagítva és árnyékoltan legyen szedve!
2. Használja rajzolás közben a másolás, tükrözés és a forgatás eszközöket! A megfelelő nyilakat az alakzatok közül válassza ki!
3. A diákon a nyilak megfelelő irányba mutassanak, az egyenesek egy pontban találkozzanak és ahol kell a szögek egyenlők legyenek!
4. A megfelelő szakaszok, a mintának megfelelően szaggatott vonallal legyenek ábrázolva! A sugármenet jelölésére használjon betűjelölést!
5. A kész ábrák rajzelemeinél alkalmazzon csoportba foglalást!



1. dia



2. dia



3. dia